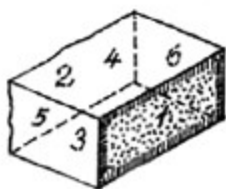


# Steinmetz-Fachzeichnen-Preisrätsel

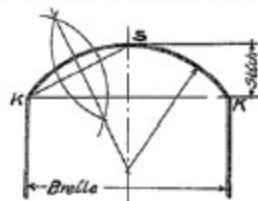
## Lösungen:



1. Wie bezeichnen Sie die einzelnen Flächen eines (Mauer-)Quaders? (3 Pkte.)

1. (vorne) Haupt      2. (hinten) Hinteres Haupt      3. (unten) Unteres Lager  
4. (oben) Oberes Lager      5. (links) Stoßfuge      6. (rechts) Stoßfuge

2. Die größte Gesundheitsgefährdung im Beruf ist die 1. Staubgefährdung  
und wie schützen Sie sich dagegen? 2. stets absaugen (2 Pkte.)



3. Wie lauten die Fachbegriffe K... und S... im Stichbogen? (2 Pkte.)

- K Kämpferpunkte  
S Scheitelpunkt

4. Skizzieren Sie die Form einer Halbsäule im Schnitt. (1 Pkt.)



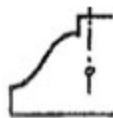
5. Nennen Sie die abgebildeten Profile fachlich. (4 Pkte.)



1. Hohlkehle und Rundstab



2. Sima



3. Sturzrinne



4. Karnies